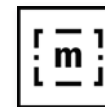


Musée d'art et d'histoire de Melun



Carnet de visite Melun au Moyen Âge




■ La forme de la ville.

Où cela se trouve ?

→ Retrouve ce tableau dans la salle d'exposition, observe-le en détail et localise le nom des lieux par des lettres.

- a/ les trois parties qui forment la ville
- b/ les remparts qui entourent la ville
- c/ les portes de la ville percées dans les remparts
- d/ l'île au milieu de la ville
- e/ le fleuve
- f/ les ponts
- G /le châtelet (prison)



→ **La ville** représentée ici en peinture est Melun telle qu'elle était à la fin du Moyen Âge.

Selon toi, le Moyen Âge est une période de l'Histoire qui a durée combien d'année ? 300 ans 1 000 ans 5 000 ans

→ Coche la bonne réponse

→ **Le château** regarde à nouveau le tableau de la ville. As-tu repéré le château fort ? Il porte ce nom car il est entouré d'un mur de fortification ou rempart. Tu pourras aussi remarquer le donjon, les tours d'angle et le fossé ! Ce château a été construit par les premiers rois capétiens autour de l'an mil, puis il a été de nombreuses fois amélioré.

Dans quelle partie de la ville était-il situé ? Quartier St-Aspais Île St-Étienne Quartier St-Ambroise

→ Coche la bonne réponse



...❖ **Le roi de France** était le seigneur le plus important de la ville. À Melun, il ne vivait pas toujours dans son château. Lorsqu'il n'était pas là, il en confiait la garde à son châtelain, un homme en qui il avait confiance. C'était là que vivait sa garnison d'hommes en armes qui assuraient la défense du château et de la ville.

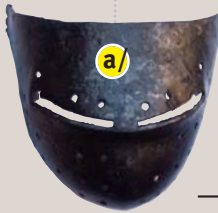
Certains objets dont voici les images font partie d'une armure de combattant.

Selon toi, à quelle partie de l'armure correspondent-ils ?

...❖ Aide-toi du schéma

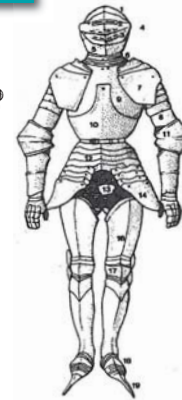
a/

b/



J E U

C'est quoi et pour quoi faire ?



- 1 - timbre
- 2 - vue
- 3 - ventaille
- 4 - mézail
- 5 - bavière
- 6 - gorgerin
- 7 - épaulière
- 8 - brassard
- 9 - fauce
- 10 - cuirasse
- 11 - cubitière
- 12 - braconnière
- 13 - cotte de mailles
- 14 - tassette
- 15 - gantelet
- 16 - cuissard
- 17 - grenouillère

...❖ **Les seigneurs dans la ville.** Parmi les grands seigneurs de la ville il y avait le Roi mais aussi le Vicomte de Melun ainsi que les moines de l'abbaye Saint-Père. Ces seigneurs avaient le devoir d'assister et de protéger les personnes vivant sur leurs territoires qu'on appelait aussi leurs fiefs. En contre partie ils avaient le pouvoir de...

... rendre la justice,

À ton avis, à quoi pouvaient servir ces deux édifices ?

c/

d/

c/ le châtelet

d/ la potence



... lever divers impôts, auprès des habitants. La dîme, le cens, et d'autres encore pour l'utilisation de leur moulin à farine, de leur four à pain.

Trois grands seigneurs pour une seule ville, cela créait parfois des histoires... et souvent des procès !

Connais tu le nom de cet édifice ?

e/

Coup de Pouce

Aide-toi du plan de JOURAZIER.

■ Vivre et travailler à Melun au Moyen Âge ?

J E U



Les représentations de Melun nous aident à imaginer la ville à la fin du Moyen Âge. Les rues étaient étroites et souvent sinueuses, pour gagner de la place on rallongeait le plancher du premier étage des maisons qui débordait sur la rue (ce sont les maisons en encorbellement).

Les ruelles étaient sombres même en plein jour et toujours humides faute d'ensoleillement, elles n'étaient pas toujours pavées, mais en terre battue renforcée par de la pierreaille.

...❖ **Entrons par la porte.** Au Moyen Âge on entrait dans la ville de Melun par une des portes percées dans le rempart.

Coup de Pouce
Aide-toi du cartel.

Observe la porte en détail et localise les noms suivants avec les lettres.

a/ les mâchicoulis b/ la herse c/ les tours flanquantes d/ le pont-levis e/ les archères.

...❖ **Des maisons mais comment ?**

Avec quels matériaux étaient construites la plupart des maisons au Moyen Âge à Melun ?

...❖ **Tous en Seine.** La Seine qui traverse la ville jouait un rôle important dans la vie des habitants de Melun au Moyen Âge. Les marchandises circulaient par bateau vers Paris et la Bourgogne en s'arrêtant à Melun. Les céréales étaient transformées sur l'île Saint-Étienne grâce aux moulins installés sur le fleuve.

D'après les détails présentés ci-joint, retrouve dans les tableaux :

a/ les moulins bateau b/ les moulins pendants (posés sur des colonnes de bois).



...❖ **Objets trouvés.** Ces objets de la vie quotidienne ont appartenu à des habitants de Melun à différentes périodes du Moyen Âge. Les archéologues en ont retrouvé beaucoup d'autres, voici quelques uns d'entre eux.

J E U

Qui est... en quoi... pour quoi faire ?

...→ Relie les images aux noms d'objets.

- Carreau de pavement (en terre cuite) ●
- Boucle de ceinture (en métal) ●
- Verre à boire (en verre) ●
- Cruche (en terre cuite) ●
- Tête de roi (en pierre de taille) ●
- Franc de Jean le Bon (en or) ●
- Molette d'Eperon (en métal) ●
- Statue de St-Nicolas (en pierre) ●



Indice+

Eperon à molette = petite branche de métal qui s'adapte aux talons, armée à l'extrémité d'une roue en étoile dont les pointes servent à exciter le cheval.



■ Les églises et le christianisme.

Un peu d'Histoire

...✠ Un dieux unique ...

Au début du Moyen Âge, à la fin du v^{ème} siècle, Clovis, roi mérovingien est baptisé Chrétien, c'est-à-dire qu'il reconnaît que Jésus Christ est le fils de Dieu. C'est à partir de ce moment là que le royaume de France se couvre d'églises chrétiennes.

Au milieu du Moyen Âge, on comptait au moins une église par quartier à Melun et plusieurs monastères car tous les habitants étaient chrétiens. La plupart des églises chrétiennes construites à cette époque ont aujourd'hui disparu.



J E U

Quel est son nom ?

Cette église a 1 000 ans, elle existe encore aujourd'hui...

→ Indique son nom

1/ -----

Indice+

Cette église a un nom qui évoque la mère de JÉSUS.